





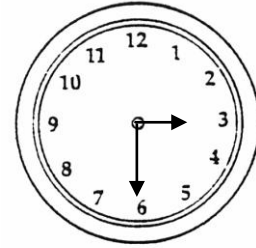



# ¿Qué Hora Es?

1. Contesta con frases completas. ¿Qué hora es en cada reloj?



**2. Contesta con frases completas:**

- a. 12:15 + diez minutos:
  
- b. 3:00 – quince minutos:
  
- c. 6:25 + cincuenta minutos:
  
- d. 8:20 + cuarenta y cinco minutos:
  
- e. 2:10 – trece minutos:
  
- f. 6:04 – once minutos:
  
- g. 4:50 + veintiseis minutos:
  
- h. 10:33 + sesenta minutos:
  
- i. 7:07 – treinta y dos:
  
- j. 8:00 + cincuenta y nueve minutos: